

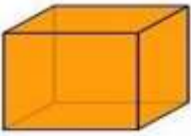
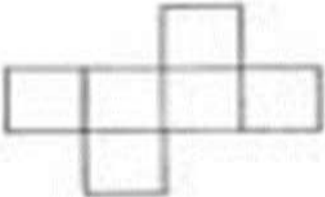


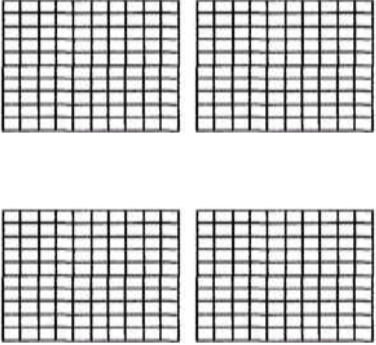
Mary Anne School
Matemática
Profesora Yanet Imbarack

Prueba de Matemática
Segundo Básico

NOMBRE:	CURSO: 2°
FECHA:	PTJE: ___/29

I.- Selección múltiple: Lee las siguientes preguntas y encierra la alternativa correcta. (23 pts.)

1.- Un cuerpo geométrico tiene: a) Largo, ancho y alto b) Una línea. c) Ninguna de las anteriores.	
2.- Las redes geométricas sirven para: a) Armar un cuerpo geométrico. b) Resolver un problema. c) Ninguna de las Anteriores	
3.- Son elementos de un cuerpo geométrico: a) Aristas, Vértices, y Caras. b) Minuendo c) Sumando	
4.- El Vértice es: a) Avanzar b) El punto donde se juntan tres o más caras. c) A y b son correctas	
5.- Este cuerpo geométrico es:  a) Un cuadrado. b) Un cubo. c) Un cono.	
6.- La imagen corresponde a: a) Un cuerpo geométrico. b) Una Red geométrica c) Ninguna de las anteriores 	7.-El símbolo que utilizo para demostrar la igualdad es: a) + b) - c) =

<p>8.- Los Datos que necesito para resolver un problema son:</p> <p>a) La Composición Aditiva. b) Los números o cifras c) Ninguna de las anteriores.</p>	<p>9.- Para resolver un problema matemático debo:</p> <p>a) Realizar la operación. b) Responder la pregunta del problema. c) A y B son correctas.</p>
<p>10.- Las acciones de quitar, perder y retroceder corresponden a :</p> <p>a) La adición. b) La sustracción. c) La red geométrica.</p>	<p>11.- ¿Si un sumando vale 42 y el otro sumando vale 56, el resultado o total es?</p> <p>a) 100 b) 20 c) 98</p>
<p>12.- Los términos minuendo y sustraendo, corresponden a una:</p> <p>a) Suma o Adición. b) Líneas rectas. c) Resta o sustracción.</p>	<p>13.- El número 700, está formado por:</p> <p>a) 4 Centenas b) 8 Decenas c) 7 Centenas</p>
<p>14.- La siguiente representación corresponde al número:</p> <p>a) 400 b) 40 c) 500</p> 	<p>15.- Las aristas son:</p> <p>a) Una red geométrica b) Un cuerpo geométrico. c) Las líneas que se forman cuando se juntan dos caras.</p>
<p>16.- ¿Cual es el resultado de la siguiente adición?</p> <p>a) 43 b) 78 c) 60</p> <div style="border: 1px solid black; padding: 5px; display: inline-block; margin-left: 100px;"> $63 + 15$ </div>	<p>17.- Son cuerpos geométricos:</p> <p>a) El Cono b) La Esfera c) A y B son correctas</p>
<p>18.- ¿Cuál es el resultado de la siguiente sustracción?</p> <p>a) 100 b) 78 c) 66</p> <div style="border: 1px solid black; padding: 5px; display: inline-block; margin-left: 100px;"> $97 - 31$ </div>	<p>19.- El Calendario es:</p> <p>a) Instrumento que sirva para medir el tiempo. b) Instrumento que mide el agua. c) Ninguna de las Anteriores.</p>

<p>20.- Luis compró 30 láminas para su álbum y su abuelita le regaló 24 más. ¿Cuántas láminas tiene en total?</p> <p>a) 6 láminas. b) 54 láminas. c) 43 láminas.</p>	<p>21.- Gabriel tiene 76 lápices de colores, perdió 12 ¿Cuántos lápices tiene ahora?</p> <p>a) 88 lápices. b) 64 lápices. c) 88 lápices.</p>
<p>22.-En un bosque hay 36 árboles un grupo de niños plantan 52 árboles más. ¿Cuántos árboles tiene el bosque ahora?</p> <p>a) 90 árboles. b) 88 árboles. c) 76 árboles.</p>	<p>23.- En mi jardín tengo 87 flores, 40 son rosas y el resto claveles. ¿Cuántos claveles tengo?</p> <p>a) 90 claveles. b) 47 claveles. c) 36 claveles.</p>

II.- Verdadero o falso: lee los siguientes enunciados y responde con una V si es verdadero o una F si es falso (1 pto. c/u) (6p total)

- 1.- _____ Las redes geométricas están formadas por figuras geométricas.
- 2.- _____ La esfera, el cilindro y el cono son cuerpos geométricos.
- 3.- _____ Sumando, total o resultado corresponden a la adición.
- 4.- _____ Las palabras avanzar, ganar y juntar pertenecen a la sustracción.
- 5.- _____ El año tiene 18 meses.
- 6.- _____ El día Jueves está entre los días Domingo y Lunes.