



Prueba de Ciencias Primeros Básicos A y B

Nombre:	Curso:	Fecha:

Puntaje Ideal: 26 puntos (1 pto. Cada una).

Puntaje Real:

Nota:


Objetivo:

- Identificar y describir la ubicación y función de los sentidos.
- Describir, dar ejemplo y practicar hábitos de vida saludable para mantener nuestro cuerpo sano y prevenir enfermedades.
- Reconocer y observar por medio de la exploración que los seres vivos crecen, responden a estímulos del medio y se reproducen.

Indicaciones Generales:

- Tienes que realizar la prueba con el apoyo de un adulto.
- La prueba tiene una duración de 90 minutos.
- Mantén una actitud de silencio y concentración durante el desarrollo de la prueba.

I.- Escucha atentamente el siguiente texto y luego selecciona la alternativa correcta:

	<p><u>El burro Rufo</u></p> <p>El burro Rufo sale de paseo. Rufo mira una nube. En el camino saluda a doña Pájara. El burro ve un capullo en una rama. El paseo dura toda la mañana. Rufo llega agotado a su casa.</p>	
<p>1) ¿Quién sale de paseo?</p> <p>a) Doña Pájara b) El burro Rufo c) La nube</p>	<p>2) ¿Qué cosas ve Rufo?</p> <p>a) Un conejo y un perro b) Una nube y un capullo c) Una flor y un gato</p>	
<p>3) ¿A quién saluda Rufo?</p> <p>a) A la nube b) Al capullo c) A doña Pájara</p>	<p>4) ¿Cuánto duró el paseo?</p> <p>a) Toda la mañana b) Todo el día c) Toda la tarde</p>	

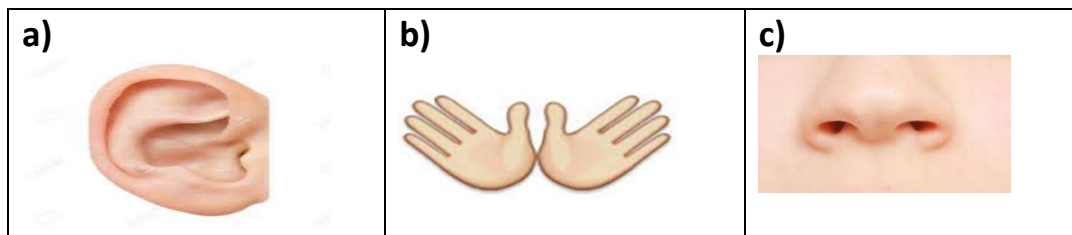


II.- Observa y luego responde las siguientes preguntas.

5) ¿Con qué puedo saborear?



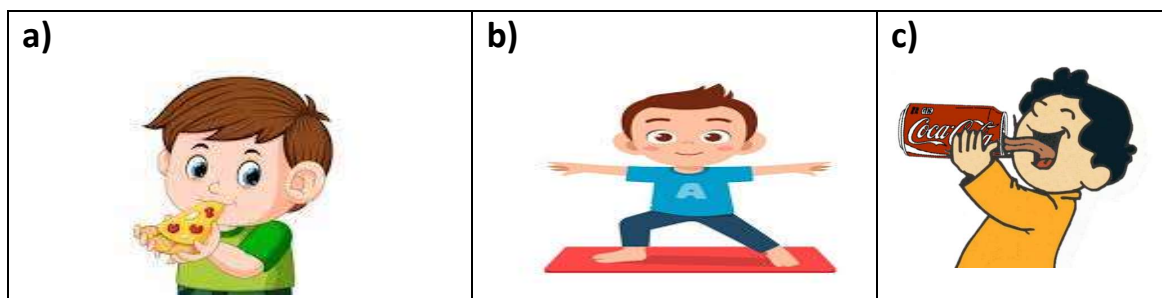
6) ¿Con qué puedo saber si algo es áspero o suave?




7) ¿Cuál de estos alimentos es dulce?



8) ¿Cuál de estas imágenes muestra un hábito de vida saludable?




9) ¿Cuál de estos alimentos es saludable?





10) ¿En cuál imagen aparece un hábito de higiene personal?



11) Marca la imagen que muestra un ser vivo:




12) Esta imagen muestra que los seres vivos....




- a) Crecen
- b) Duermen
- c) Se desplazan

13) ¿Cuál de estos animales nace del vientre de su madre?



14) ¿Cuál de estos animales se reproduce por huevos?





III.- Coloca V si es Verdadero o F si es Falso, según corresponda:

1. _____ Con mis ojos puedo reconocer los olores.
2. _____ Puedo distinguir los sonidos usando mis oídos.
3. _____ Con la lengua puedo distinguir los colores.
4. _____ Para distinguir los olores uso el olfato.
5. _____ Con la lengua podemos distinguir los sabores dulce, salado, ácido y amargo.
6. _____ Los sentidos nos alertan del peligro.
7. _____ Las manos son las principales portadoras de gérmenes, que causan enfermedades.
8. _____ Es importante lavar frutas y verduras antes de comerlas.
9. _____ Los seres no vivos se reproducen.
10. _____ Los seres vivos responden a estímulos
11. _____ Tener hábitos de higiene personal es bueno para la salud.
12. _____ El ser humano se desarrolla dentro del vientre materno



Hoja de Respuesta

Prueba de Ciencias Primeros Básicos A y B

Nombre:	Curso:	Fecha:

Puntaje Ideal:

Puntaje Real:

Nota:

1)	A	B	C
2)	A	B	C
3)	A	B	C
4)	A	B	C
5)	A	B	C
6)	A	B	C
7)	A	B	C
8)	A	B	C
9)	A	B	C
10)	A	B	C
11)	A	B	C
12)	A	B	C
13	A	B	C
14)	A	B	C

1)	A	B	C
2)	A	B	C
3)	A	B	C
4)	A	B	C
5)	A	B	C
6)	A	B	C
7)	A	B	C
8)	A	B	C
9)	A	B	C
10)	A	B	C
11)	A	B	C
12)	A	B	C