



Prueba de Matemática Segundo Básico

NOMBRE:	CURSO: 2°
FECHA:	PTJE: ___/31

I.- Selección múltiple: Lee las siguientes preguntas y encierra la alternativa correcta. (25 pts.)

1.- Observa la imagen y luego responde:

a) ¿Quién está a la derecha del resbalin?

- a) Un niño en un patito.
- b) Un niño en un columpio.
- c) El sol.



b) ¿Dónde duerme el gato?

- a) Delante de la niña.
- b) Debajo del resbalin.
- c) Arriba del resbalin.

c) ¿Qué hay sobre los columpios?

- a) Un avión.
- b) Nubes.
- c) Un gato.



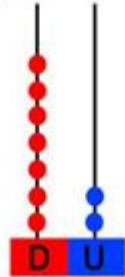

2.- ¿Qué animal es el siguiente?


- a) Cerdo.
- b) Pollito.
- c) Oveja.



3.- ¿Qué alternativa cumple correctamente con un patrón?

- a)
- b)
- c)

<p>4.- ¿Cuántos elementos hay en la siguiente imagen?</p> <p>a) 25 b) 30 c) 35</p> 	
<p>5.- ¿Cuál es el patrón en la siguiente imagen?</p> <p>a) De 2 en 2 b) De 3 en 3 c) De 5 en 5</p> 	
<p>6.- ¿Qué secuencia numérica esta ordenada correctamente de menor a mayor?</p> <p>a) 12 - 13 - 15 - 16 - 17. b) 17 - 16 - 15 - 14 - 13. c) 12 - 13 - 14 - 15 - 16.</p>	<p>7.- ¿Qué secuencia numérica esta ordenada correctamente de mayor a menor?</p> <p>a) 43 - 44 - 45 - 46 - 47. b) 47 - 46 - 42 - 44 - 43. c) 43 - 42 - 41 - 40 - 39.</p>
<p>8.- ¿Cuál es el antecesor de 100?</p> <p>a) 90 b) 99 c) 101</p>	<p>9.- ¿Cuál es el sucesor de 100?</p> <p>a) 90 b) 99 c) 101</p>
<p>10.- ¿Cómo se escribe en palabras la cifra 25?</p> <p>a) veinte y cinco. b) veinticinco. c) cincuenta y dos.</p>	<p>11.- ¿Qué número está representado en el ábaco?</p> <p>a) 72 b) 27 c) 82</p> 
<p>12.- ¿Cuántas unidades equivalen 3 decenas?</p> <p>a) 3 b) 30 c) 300</p>	<p>13.- ¿Qué número está representado en la imagen?</p> <p>a) 19 b) 20 c) 2</p> 

<p>14.- ¿Qué número está representado en la imagen?</p> <p>a) 14 b) 15 c) 40</p> 	<p>15.- ¿Qué respuesta corresponde a la descomposición del número 15?</p> <p>a) 1 + 5 b) 11 + 3 c) 10 + 5</p>
<p>16.- ¿Cuál es el resultado de la siguiente adición?</p> <p>a) 5 b) 15 c) 23</p> <div style="border: 1px solid black; padding: 5px; display: inline-block; margin: 10px 0;">$14 + 9$</div>	<p>17.- ¿Qué adición da como resultado 32?</p> <p>a) 16 - 16 b) 3 + 2 c) 30 + 2</p>
<p>18.- ¿Cuál es el resultado de la siguiente sustracción?</p> <p>a) 10 b) 28 c) 6</p> <div style="border: 1px solid black; padding: 5px; display: inline-block; margin: 10px 0;">$17 - 11$</div>	<p>19.- ¿Qué sustracción da como resultado 5?</p> <p>a) 10 + 5 b) 10 - 5 c) 11 - 4</p>
<p>20.- Viviana y Florencia son hermanas. Viviana tiene 21 años y Florencia, 10 años. ¿Cuál es la diferencia de edad entre ambas hermanas?</p> <p>a) 10 b) 11 c) 31</p>	<p>21.- El día sábado fueron al circo 38 personas en la mañana, y en la tarde fueron 50. ¿Cuántas personas fueron en total al circo?</p> <p>a) 12 b) 80 c) 88</p>
<p>22.- Tomás colecciona figuritas de vidrio. Ya tiene 21 y quisiera tener 45. ¿Cuántas le faltan?</p> <p>a) 24 b) 25 c) 66</p>	<p>23.- Don Juan embala 43 cajas de frutilla el día lunes. El día martes embala 20 cajas más. ¿Cuántas cajas de frutilla embala en ambos días?</p> <p>a) 23 b) 63 c) 53</p>

II.- Verdadero o falso: lee los siguientes enunciados y responde con una V si es verdadero o una F si es falso (1 pto. c/u) (6p total)

- 1.- _____ El número 73 es más grande que el número 91.
- 2.- _____ $3 + 3$ es mayor que 9.
- 3.- _____ 6 Decenas equivalen a 60 unidades.
- 4.- _____ En la adición y la sustracción el 0 es un elemento neutro.
- 5.- _____ El resultado de una adición se le llama diferencia.
- 6.- _____ La sustracción se relaciona con las acciones de quitar, separar y retroceder.