



Mary Anne School

Profesoras: Karin Espinoza – Elizabeth Martínez

### PRUEBA DE DIAGNÓSTICO DE MATEMÁTICA 1º BÁSICO A-B

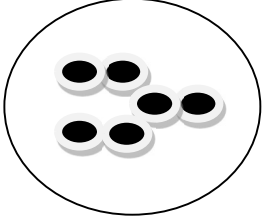
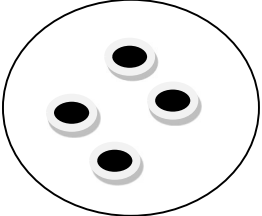
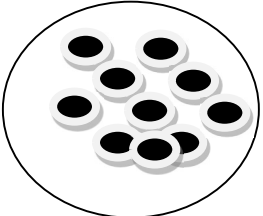
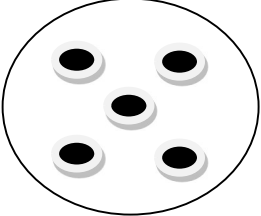
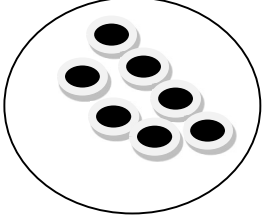
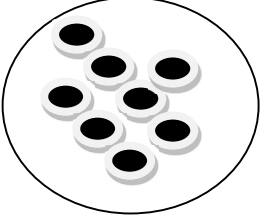
Alumno(a) \_\_\_\_\_ Fecha \_\_\_\_\_

Puntaje ideal: 34 Puntaje real: \_\_\_\_\_ Nota: \_\_\_\_\_

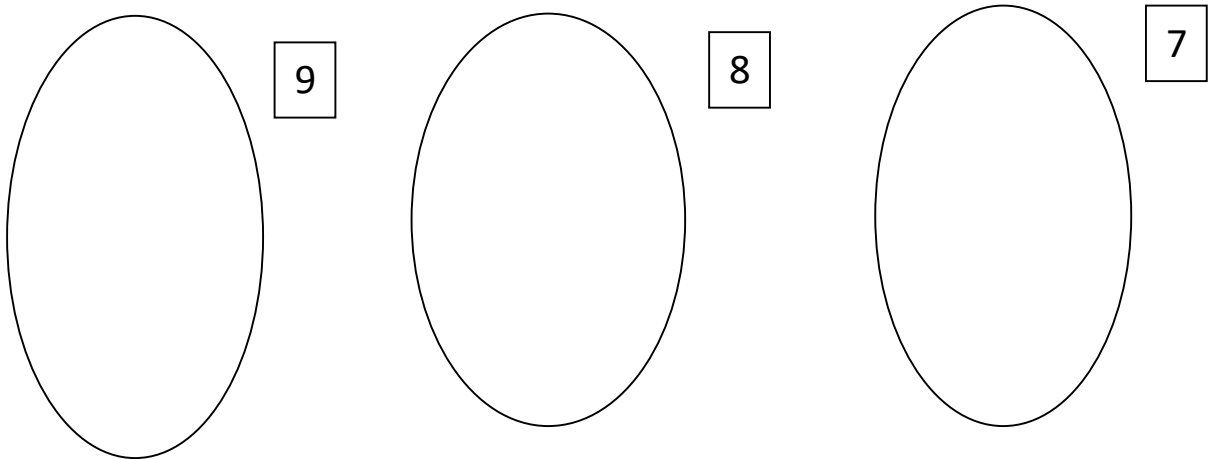
**Objetivo específico: Identificar y reconocer correctamente los numerales del 0 al 10 y asociar la cantidad con el numeral.**

#### Instrucción:

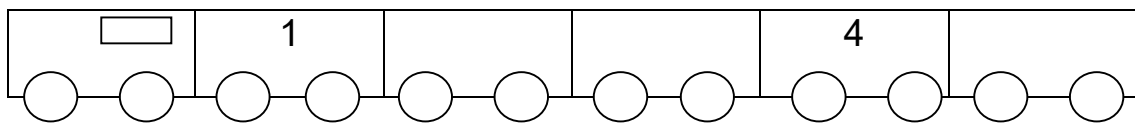
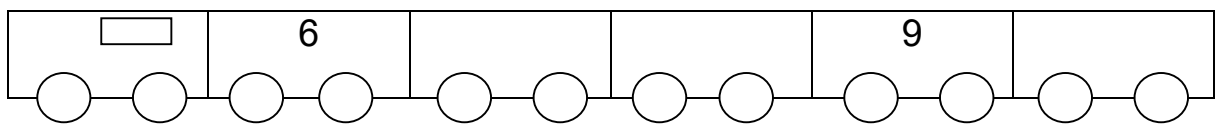
I.-Cuenta y marca con una x el número correspondiente a la cantidad.(2 punto c/u)

1.-  <input type="checkbox"/> 5 <input type="checkbox"/> 6	2.-  <input type="checkbox"/> 3 <input type="checkbox"/> 4
3.-  <input type="checkbox"/> 9 <input type="checkbox"/> 10	4.-  <input type="checkbox"/> 4 <input type="checkbox"/> 5
5.-  <input type="checkbox"/> 7 <input type="checkbox"/> 8	6.-  <input type="checkbox"/> 8 <input type="checkbox"/> 9

II.-Dibuja la cantidad de elementos que indica el número.  
(2 punto c/u)



III.-Completa los carrito con el número que falta.  
(1 punto c/u)



IV.- Escribe en cada nube, desde el número 1 hasta el 10 en orden de menor a mayor.( 1 punto c/u)

